



A1. Какая «мышка» собрана правильно для работы за компьютером.



A2. О чем идет речь в стихотворении?

Он «живой» и неживой,  
 Он смысленный иль тупой.  
 Все зависит от того,  
 Как запрограммировать его.



A3. С помощью какого устройства нельзя пополнить счет на мобильном телефоне?



A4. Для чего нужны очки с разноцветными стеклами?



- 1) Для слепых;
- 2) Для красоты;
- 3) Для удобства;
- 4) Для просмотра 3D фильмов.

A5. Название какого устройства зашифровано в ребусе?



A6. Отгадай ребус:



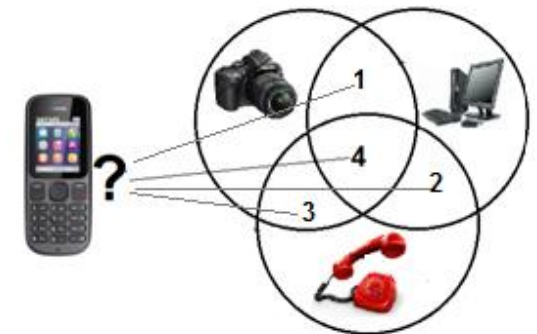
- 1) Модем;
- 2) Модель;
- 3) Алгоритм;
- 4) Система.

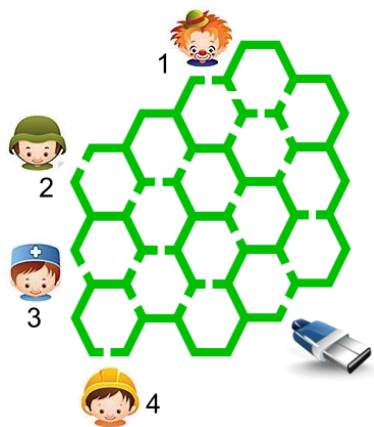
A7. Разгадай ребус по первым буквам.



- 1) средство печати;
- 2) глобальная сеть;
- 3) социальная сеть;
- 4) средство информационной безопасности.

A8. В какое из пересечений множеств надо поместить современный мобильный телефон?





A9. Кто из ребят доберется до флэш-карты по лабиринту?

(Рисунок слева)

A10. Какая компьютерная игра изображена на картинке?



1) Майнкрафт; 2) GTA; 3) World of Tanks; 4) Тетрис.

A11. Найди лишнее.



A12. Какая поговорка зашифрована в этих рисунках?



- 1) По одежке встречают, а провожают по уму.
- 2) Голова пуста, да туга сума.
- 3) Умом туп, да кошельком туг.
- 4) Борода с ворота, а ума с прикалиток нет.

A13. Какой из роботов обозначает операционную систему для мобильных телефонов Android?



A14. Инфознайка нечаянно установил английский расклад клавиатуры, а набрал слово на русском языке. Получилось: SEGTHRJVGM>NTH. Какое слово хотел набрать Инфознайка?

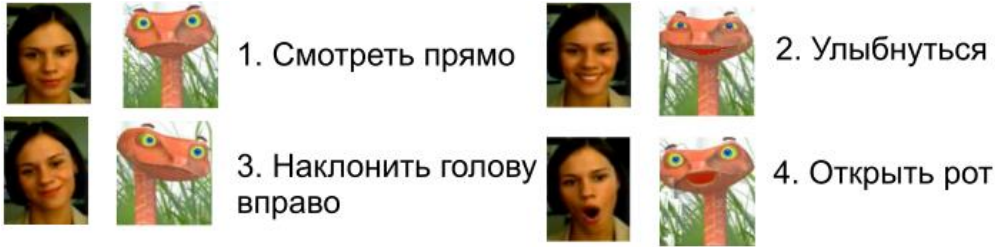
Q	W	E	R	T	Y	U	I	O	P	[	]	\
A	S	D	F	G	H	J	K	L	;	'		
Z	X	C	V	B	N	M	<	>	/	.		
Й	Ц	У	К	Е	Н	Г	Ш	О	Щ	Р	З	[
Ф	Ы	В	А	П	Р	О	Л	Д	;	Ж	;	Э
Я	Ч	С	М	И	Т	Ь	,	Б	.	Ю	.	

- 1) СУПЕРПЛАТА;
- 2) СУПЕРПРИНТЕР;
- 3) СУПЕРСКАНЕР;
- 4) СУПЕРКОМПЬЮТЕР.

A15. Какой рисунок соответствует команде «Растянуть резинку» в игре «Angry Birds»?

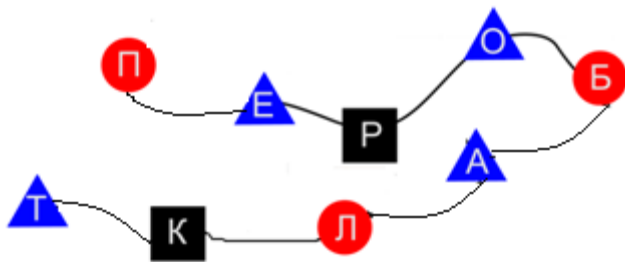


A16. Современные технологии позволяют передавать мимику лица человека, снятую на видеокамеру, вымышленному компьютерному изображению – «аватару». В какой паре человек и «аватарки» не совпали?



A17. Выполни действия над цепочкой фигур с буквами и определи значение полученного слова:

- выбери первую фигуру в указанной последовательности;
- выбери квадрат, расположенный между треугольниками;
- выбери первый треугольник справа от первого квадрата;
- выбери круг между двумя треугольниками;
- выбери треугольник, слева от которого круг, а справа - квадрат;
- выбери из последних фигур не квадрат и не треугольник.



У тебя получилось слово:

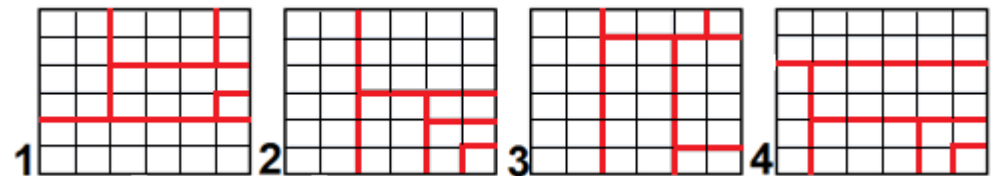
- 1) предел; 2) проба; 3) пробел; 4) побелка.

A 18. Рисунки собраны построчно из фрагментов в таблице. Какая картинка НЕВЕРНО отражает информацию из таблицы?

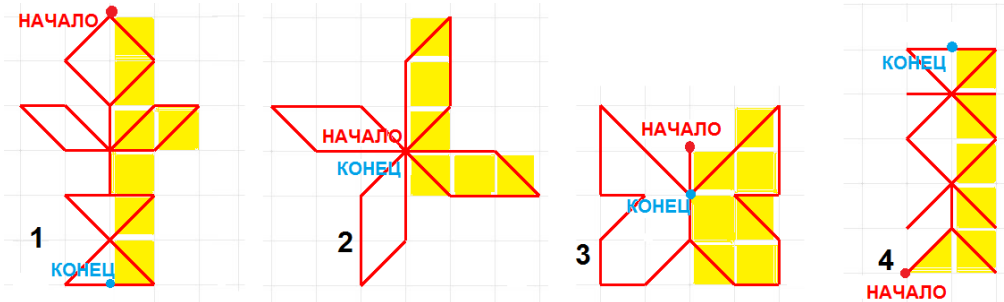
	Дышу	Двигаюсь	Обитатель
1			
2			
3			



A19. Герои сказки «Репка» решили вместе прополоть свой огород. Известно, что за одинаковое время Дедка прополет 12 частей огорода, Бабка- 10 частей, Внучка – 6 частей, Жучка – 4 части, Кошка – 3 части, а Мышка – 1 часть. На каком рисунке огород разделен так, чтобы все начали и закончили прополку одновременно?



A20. Какие инструменты и цвета красок в графическом редакторе Paint понадобятся Инфознайке, чтобы нарисовать схему метро г. Москвы?



A21. Выбери номер изображения, для которого набор команд строит фигуру от метки «Начало» до метки «Конец» и проходит по залитым квадратикам:



Набор команд, достраивающий фигуру:



A22. Инфознайка разобрал, а потом сам собрал компьютер. Но у него осталась лишняя деталь - винчестер. В какую часть компьютера надо установить жесткий диск?

